
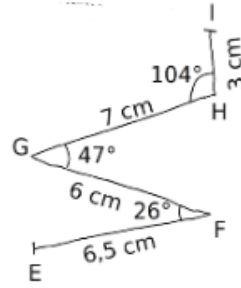
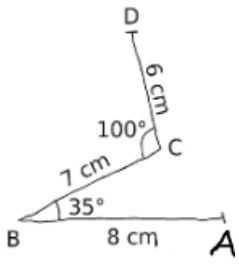


**Prérequis 12.2 : tracer un angle**

**Ex 1 :** Reproduis chaque ligne brisée en vraie grandeur, à partir du segment déjà tracé.



**Prérequis 12.2 : tracer un angle**

**Ex 1 :** Reproduis chaque ligne brisée en vraie grandeur, à partir du segment déjà tracé.

